


Pampeliška (smetánka lékařská)




1) Části rostliny

-  Vystřihni názvy částí rostliny a nalep je na správná místa.
Názvy můžeš na příslušná místa také pouze napsat.

květ	kořen	list	poupě	stonek
------	-------	------	-------	--------

2) Podzemní a nadzemní části rostlin

- ? Víš, které části jsou nadzemní a které podzemní?

-  Přiřaď je, nebo je vypiš.




Podzemní		Nadzemní
	květ	
	kořen	
	list	
	poupě	
	stonek	

3) Jak kvete pampeliška

- ? Prohlédni si následující obrázky. Dokážeš je seřadit podle toho, jak pampeliška kvete?

-  Pokud máš možnost, vezmi si na pomoc opravdové pampelišky.

-  Obrázky si můžeš vystřihnout a seřadit.



4) Měření

- Najdi a utrhni 10 různě velkých rozkvetlých pampelišek. Pokud se ti to povede, vyjmi je ze země i s kořenem.
- Seřaď je podle velikosti.
- Změř a zapiš do tabulky uvedené údaje.

Délka nejdelšího stonku činí cm.

Délka nejkratšího stonku činí cm.

Délka nejdelšího kořene činí cm.

Délka nejkratšího kořene činí cm.

- Najdi předměty, které se nejvíce blíží délkám jednotlivých stonků a kořenů.

5) Kreslení

- Dokresli pampeliškám bílé chmýří.
- Zkus dokreslit i listy.



6) Přemýšlení

- ? Jaké zvíře se skrývá v názvu této rostliny?
Víš, proč se jmenuje také smetánka lékařská?
Co ti připomíná žlutý květ pampelišky? A co ten bílý?
Co všechno můžeme s pampeliškou ještě udělat?
Kde všude rostou pampelišky?